



**ROTEIRO DE ATIVIDADES COMPLEMENTARES DE ESTUDO – COVID 19  
7º ROTEIRO**

**ESCOLA MUNICIPAL DR. VITÓRIO FRANKLIN**

**PROFESSORA: LUCI ANE FERNANDES TURMA: Sala de Recurso B - Grupo 2**

**COMPONENTES CURRICULARES: LÍNGUA PORTUGUESA, MATEMÁTICA E HABILIDADES**


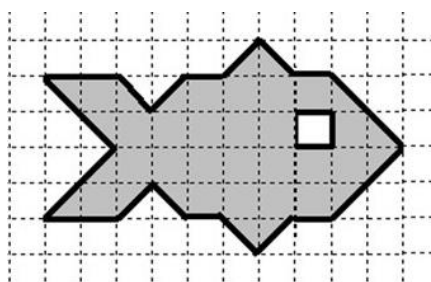
**NOME : \_\_\_\_\_**

**PERÍODO DE REALIZAÇÃO: 12 a 16 de abril de 2021**

<p><b>O QUE VOCÊ VAI ESTUDAR:</b></p>	<ul style="list-style-type: none"> <li>• Língua Portuguesa: Produção de texto.</li> <li>• Matemática: sistema de numeração, operações e gráfico.</li> <li>• Noção espacial e atenção: quadriculado.</li> </ul>
<p><b>PARA QUE VAMOS ESTUDAR ESSES CONTEÚDOS?</b></p>	<ul style="list-style-type: none"> <li>• Língua Portuguesa: Escrever um texto com sequência lógica e pontuação.</li> <li>• Matemática: Realizar atividades envolvendo ordem crescente, decomposição de números, pares e ímpares e operações. Interpretar um gráfico de barras.</li> <li>• Noção espacial e atenção: Reproduzir um desenho no papel quadriculado observando uma figura.</li> </ul>
<p><b>COMO VAMOS ESTUDAR OS CONTEÚDOS?</b></p>	<ul style="list-style-type: none"> <li>• Lendo e respondendo as atividades propostas pela professora com capricho.</li> </ul>

## Noção espacial e atenção

1- Copie o desenho no quadriculado ao lado, preste atenção nos quadradinhos:





## **Língua Portuguesa**

Observe as cenas. Dê um nome à menina, ao gato e ao peixe. Depois, conte, no caderno, o que aconteceu. Não se esqueça de dar um título à sua história.



Título \_\_\_\_\_

---

---

---



**SECRETARIA MUNICIPAL DE EDUCAÇÃO**  
**ATIVIDADES COMPLEMENTARES DE ESTUDO – COVID 19**

---

---

---

---

---

---

---

---

---

---

---

---

---

---

---

---

---

---

---

---

## **Matemática**

1- Observe os números a seguir e responda:

56- 749 – 124 – 1035 – 450 – 21 – 953 – 248 – 862 – 500 – 2157

a) Coloque os números em ordem crescente:

---

b) Separe-os em:

Pares: \_\_\_\_\_

Ímpares: \_\_\_\_\_



**ATIVIDADES COMPLEMENTARES DE ESTUDO – COVID 19**

c) Decomponha os números maiores de 800:

2- Resolva as operações com atenção:

a)  $1259 + 568 =$  \_\_\_\_\_

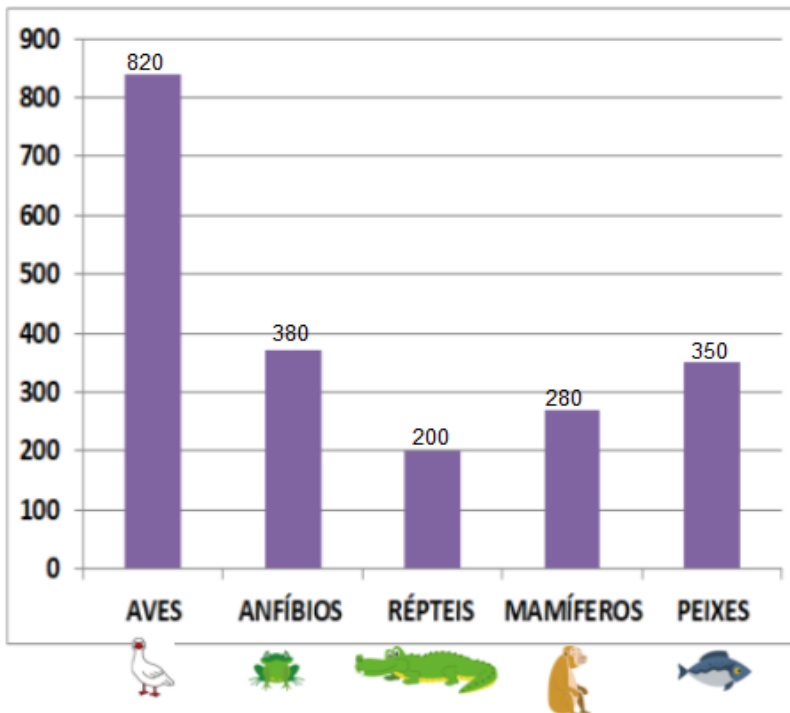
c)  $3254 \times 4 =$  \_\_\_\_\_

b)  $5200 - 3259 =$  \_\_\_\_\_

d)  $4568 : 5 =$  \_\_\_\_\_

3-Observe o gráfico e preencha as lacunas do texto com as informações que conseguir:

**FAUNA DA MATA ATLÂNTICA**



FONTE: MINISTÉRIO DO MEIO AMBIENTE

TOTAL DE ESPÉCIES: 2030



**SECRETARIA MUNICIPAL DE EDUCAÇÃO**

**ATIVIDADES COMPLEMENTARES DE ESTUDO – COVID 19**

- a) Que classe de animais possui mais variedade de espécies?  
R: \_\_\_\_\_
- b) Que classe de animais tem o menor número de espécie?  
R: \_\_\_\_\_
- c) Agora complete o texto abaixo e pinte a resposta correta em cada frase:

A FAUNA DA MATA ATLÂNTICA É BEM GRANDE.

EXISTEM MAIS DE 800 ESPÉCIES DE \_\_\_\_\_.

APROXIMADAMENTE 400 ESPÉCIES DE ANFÍBIOS.

EXATAMENTE 200 ESPÉCIES DE \_\_\_\_\_

OS MAMÍFEROS SÃO CERCA DE 300 ou 45 ESPÉCIES?

TAMBÉM SÃO 350 ESPÉCIES DE \_\_\_\_\_

SOMANDO O REINO ANIMAL SÃO 2030 ou 35 ESPÉCIES?



PRECISO CONSULTAR O GRÁFICO PARA  
RESPONDER À ESSAS PERGUNTAS.